


Photos Problèmes



Réalisés par les élèves de CM1-CM2
École de Chaillevette (17890) – Classe de Mme Bourreau

Novembre 2021

et demie (30)

AFRIQUE

EUROPE



AMÉRIQUE

OCÉANIE

Kierian, Kelya, Emma R et Emma W veulent prendre l'avion demain.

L'avion part à 10h30. Nous partons à 8h00. Il y a 20 min à pieds de trajet.

Combien de temps devons nous attendre son décollage?



Photo - Problème

2€ le feutre

Ons allons au supermarché pour acheter des feutres

Les feutres Majuscule sont à 2€20, les feutres bic sont à 1€50 et les feutres Giotto turbo merci sont à 4€50.

Je vais acheter 4 Majuscule, 4 bic et 5 Giotto turbo merci.

Combien vais je payer tous mes feutres ?

Si je paye avec un billet de 50€ combien la caissière va t-elle me rendre ?



Il est 13H j'ai 2H 45 de route.

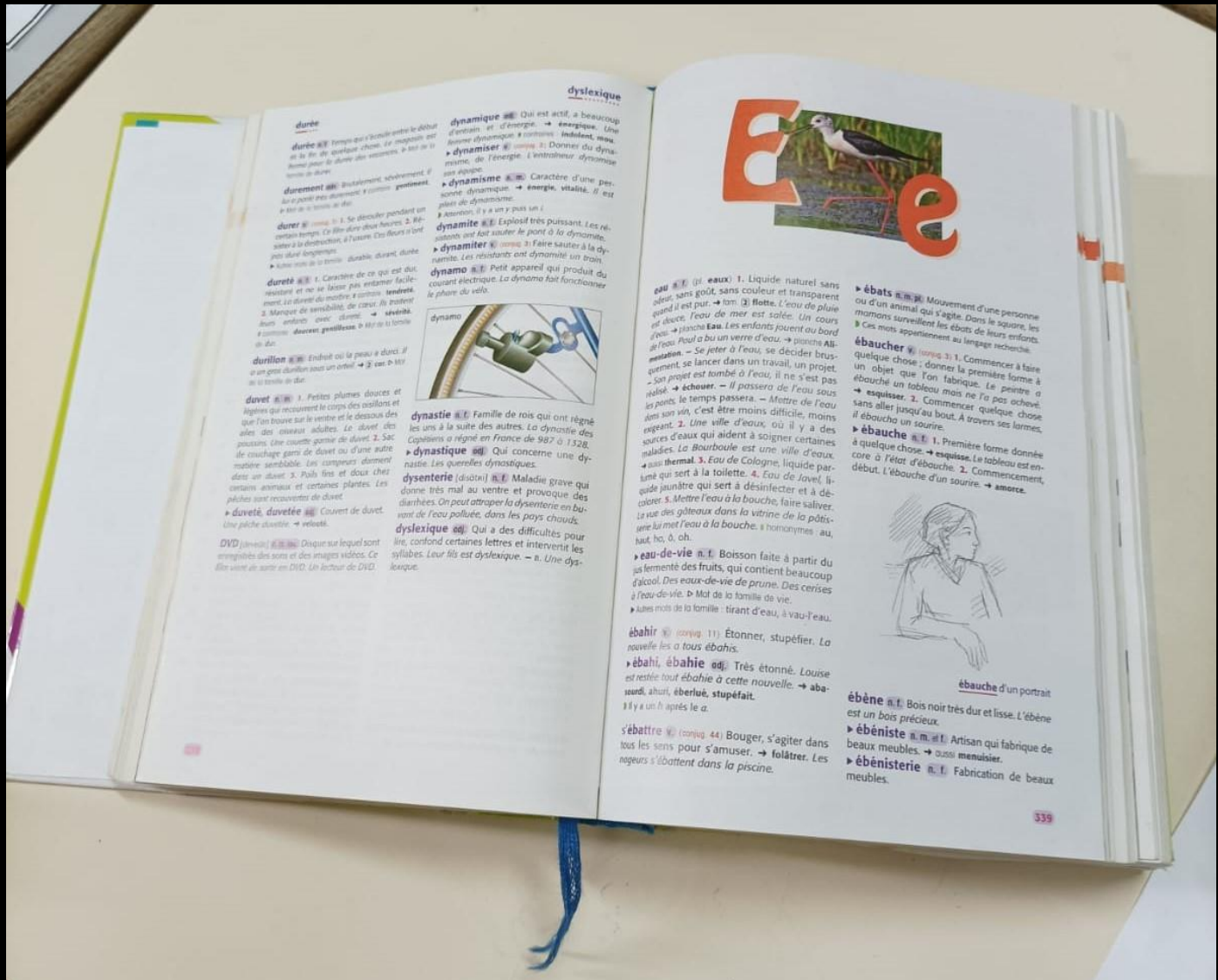
Je dois arriver à 16H30.

Combien de temps aurais-je d'avance?

Justine - Maelyn



Je voudrais acheter ~~des~~ 17 chaises ~~Il y a~~
6 petites chaises et 11 grandes chaises.
Les petites chaises ~~qui~~ coûtent 5€ et les grandes
chaises coûtent 10€. Combien devrais-je payer?
Alix, Nolan, Liam



J'ai lu 339 pages.

Combien il me reste de pages?

Sachant qu'il y a 1530 pages

Photo problème réalisé par Hugo, Lucas et Louis



Mathéo, Yoni, Solian

① Il y a 4 crayons de papier. 1 crayon coûte ~~8€~~ 1,30 €

Combien vais-je devoir payer ?

② Il y a 7 feutres jaunes. 1 feutre coûte ~~8€~~ 8,40 €

Combien ~~vais~~ devoir encore payer ?
vais-je

③ Si je paye avec un billet de 50 €.

Vais-je pouvoir payer les crayons et les feutres ?

atalo, est chargé de préparer sa sortie pour son match de foot. Il s'est que pour la journée il a besoin d'emmener plus d'un litre d'eau. Mais ne peut pas emmener plus ~~de~~ de trois bouteilles isotherme. Quelles bouteilles atalo doit emmener avec lui?





L'énoncé :

1 stère de bois coûte 50€ chez un bucheron.
À brico marché le stère coûte 75€ plus la livraison 50€.
Dan 1 stère de bois 20 fûches de 1 mètre et 40 bûches de 50 cm.
Yl me faut ~~1~~ stère de bois pour chauffer pendant 20 jours.

questions :

- 1) Combien y a t'il de bûche dans 5 stère de bois ?
- 2) Combien me coutera 4 stère chez le bucheron et 8 stère à brico marché ?
- 3) Combien me faudra t'il de ^{bûche} stère pour chauffer pendant 5 mois du 1^{er} Novembre jusqu'au 31 mars ?

EMMA K O

J'ai 3 placards chaque placard contient 4 étagères. Sachant que
1 étagère me coûte 10€. Combien vont me coûter toutes les étagères?
Et pour décorer les placards j'ai acheté 4 rideaux. Sachant que
1 rideau coûte 3,376€. Combien vais-je payer au total?




Photo problème réalisé par Emma K.

Nolan A



La maîtresse a distribué un crayon à chacun des 5 élèves de notre groupe.
Voici ce qui il reste.

Combien y en avait-il avant?

Nolan

Une médaille coûte 5€

une petite coupe coûte 10€

une grande coupe coûte 20€

Dans un magasin, j'ai acheté 2 grande coupe, 1 petite coupe et 5 médailles.


Combien je vais devoir payer?

Si je donne un billet de 100€, Combien me rendra

t-on?



PHOTO-PROBLEME



1. Combien coûte le camion de pompiers ?
Combien coûte la voiture de police ?

2. Jules achète 2 voitures de police et 1 camion de pompiers pour jouer avec sa soeur. Sa maman paye avec un billet de 100 €. Combien doit-on lui rendre ?
Pourrait-elle acheter un autre véhicule pour dépenser la totalité de son argent ?

3. Le papa de Victor paye 75 euros en tout.
Quelle quantité de chaque véhicule a-t-il acheté ?



6 BOUTEILLES



6 BOUTEILLES



6 BOUTEILLES



6 BOUTEILLES

JULIE

achète 4 PAQUES D'EAU ET DEDANS LES

PAQUES D'EAU IL Y A 6 BOUTEILLES.

COMBIEN Y A TIL DE BOUTEILLES ?

GX FULL ART

EX ARCE EN CIEL



DANS UNE BROCANTE, SUR LE STAND DE CARTES POKEMON.


JE VOUDRAIS ACHETER UNE PAGE DE CLASSEUR POKEMON AVEC DES **GX** FULL ART, NORMALES ET ARC EN CIEL AINSI QUE DES **EX**.

LES **GX** NORMALES COUTENT 10€, LES FULL ART 15€ ET LES ARC EN CIEL 20€. LES **EX** COUTENT 5€.

COMBIEN DEVRAI JE PAYER ?

EX

Corentin



Je suis au lycée de ruyon et je suis arrivée à 9 h ⁴⁵ ~~45~~
~~la~~ Je achète 15 blouster pokémon, 2 ours en peluche
2 paquet de bonbon dragibus, 2 pistolet et 5 ballon.

et quelle ^{heure} je suis partit suivant que je mais 30 min pour
y aller?

Combien cela va me coûter tout les choses que j'ai
acheter?

Lucas

Photo problème



Léo a 180€, il aimerait acheter la voiture télécommandée.

Est-ce qu'il pourra l'acheter et combien il lui restera ?

^{Justine}
Thomas Perquet est sur la lune. Il doit aller sur la terre, il part de la lune à 11h45 du matin, il arrive à 23h55. Combien de temps Thomas a-t-il mis pour arriver sur la terre?

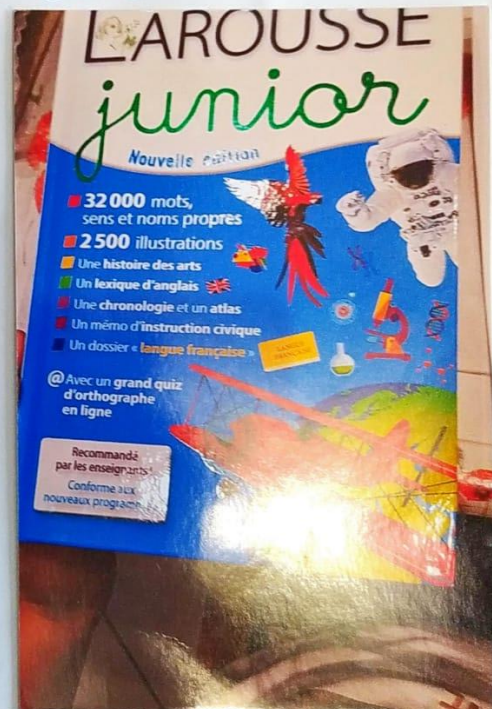


Photo problème réalisé par Justine.



Une boulangerie vend des pochettes de bonbons pour Halloween au prix de 2 euros. Il en reste 34 pochettes.

Paul veut acheter 17 pochettes avec son billet de 50 euros.

- Combien reste-t-il de pochette après l'achat de Paul ?
- Combien d'argent lui restera-t-il ?

Leyna

Aujourd'hui je suis allée à la librairie et j'ai acheté 5€
livre les 2 gros à 12€ chacun et les 3 petite à 8€
chacun.

Mais comme je suis une bonne cliente, la vendeuse me
fait une réduction de 10€ sur mon total.

Combien ai-je payé ?



PHOTO PROBLEME



Combien de vrais POP-IT il y a ?

Combien de nœuds il y a sur le gâteau ?

Le gâteau fait 15 parts nous sommes 11 combien de parts reste-t-il ?

EMMA R

Zaina

Photo Problème

Soins visage  20€	Épilation sourcils  10€
--	--

- 1/ Combien coûte un soin visage.
- 2/ Combien coûte une épilation de sourcils


3/ Emilie désire 2 soins visages et 4 épilations de sourcils pour elle et ses sœurs, combien coûte cela?

4/ Emilie donne un billet de 100 combien doit-on lui rendre?

5/ 10€ peut-elle en acheter d'autres?
Si oui quelle somme?




problème.




Je veux acheter 11 cartes Pokémon à 4€ la carte.


Combien ça me coûtera ?

À vous de jouer !!!



Chloé Tissidre





- 1) Combien de lames y a t-il sur ce xylophone ? Combien d'octaves ? Combien y a t-il de lames par octave ?
- 2) On veut agrandir ce xylophone en ajoutant 24 lames. Combien y a t-il d'octaves en plus ?

Louis Pierre doit acheter un nouveau téléphone et aussi un téléviseur. Pierre a que 710€ dans son portefeuille. Combien coûte le téléphone et le téléviseur?

Est-ce que Pierre a assez d'argent?

Si non, combien lui manque et ils peuvent acheter?

899€
699€
LE PRODUIT DONT 15€ D'ÉCO-PARTICIPATION

LG
Life's Good
TÉLÉVISEUR NANOCELL
UHD 4K 55"
4 Hdmi, 2 USB
Réf : 55NANO816
Garantie 2 ans

iOS
Nano Sim
4G
4.7"
12 Méga pixels

KEEP CALM & JUST
r:|a|x

Le mobile
reconditionné & garanti

- ✓ Reconditionné en France
- ✓ 31 points de contrôle
- ✓ Garanti 2 ans

-30€
DE REMISE IMMÉDIATE

229€
199€

IPHONE 8 RECONDITIONNÉ
64 GO
Stockage 64 Go
Grade très bon état
Wifi, bluetooth.
DAS* : 1.36 W/Kg
Garantie 2 ans

LE PRODUIT DONT 0,02€ D'ÉCO-PARTICIPATION

Léona



Mercredi 3 Novembre

photo problème

Prose et Ambre ont récolté des bonbons pour Halloween, plusieurs sachets de 100g chacun et des bonbons seuls de 5g chacun. Quel poids de bonbons ont-elles récolté?

À Halloween nous avons été
chercher des bonbons. Au total
on a eus 320 bonbons. Tyler
a eu 103 bonbons. Leyra a eu
89 bonbons. Combien de bonbons
ai-je eu ?

Mina .k

PHOTO - PROBLÈME

Maiïlle va au supermarché elle achète des feutres KIDS couleur à $1,03\text{€}$, des STABILO à $2,07\text{€}$ et des ESQUISSE à $1,05\text{€}$. Elle va prendre 3 kids couleur, 4 STABILO et 7 esquisse. Combien cela va t'il lui coûter ? Combien le caissier va t'il lui rendre si elle paye avec un billet de 20 euros ?





Photo problème réalisé par Mina

Le sèche linge où Julie, contient 56 habits.
Il n'y a que 32 shorts, et les enfants ont
piqueés 8 shorts et 5 T-shirt.

Combien y a t'il de T-shirt et combien
y a t'il d'habits en tout?



Noan

Photo problème



Je me promène à E. Leclerc hightech et j'ai acheté 8 jeux de switch

- Pokémon Bouclier 26 €

- Lego worlds 48

- Just Dance 18 €

- Mario Kart 8 deluxe 23 €

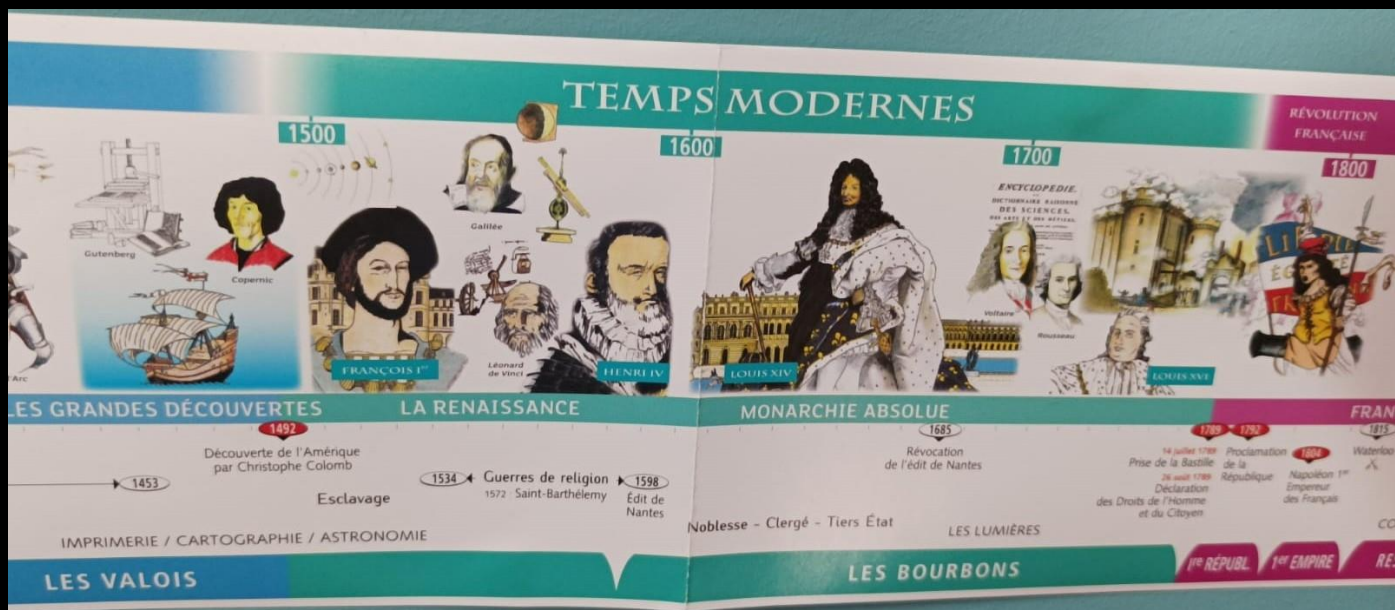
- Animal Crossing 56 €

- Fifa 19 24 €

- Harry Potter lego 20 €

- Lego city undercover 16 €

Je paye 300 € à la caissière combien va-t-elle me rendre?



Problème

Les temps modernes commencent en 1492 ~~est~~ et se finissent en 1789. Combien de temps ont-ils duré ?



Lucas a 23 ans sa sœur a 17 ans de moins
que lui. Leur père a 44 ans de plus que la
sœur de Lucas

Quel âge a le père de Lucas et sa sœur ?

problème Lucie

J'ai un album de cartes il y a 10 pochettes je peux
4 cartes dans chaque pochette.

Combien pouvais-je mettre de cartes ?



121 Noah - Chloé - Léona

À huit heures trente on emmène Éloé à la gym. et elle arrive à 9 heures 30? Combien de temps a duré le trajet?

- il est 9 heures 30 on doit arriver à 11 heures 55? Combien de temps met-on?
- il est 11 heures 55 on doit arriver à 13 heures 45? Combien de temps met-on?

Photo montage réalisé par Noah, Chloé et Léona

**Merci à tous les élèves
pour leur participation.**