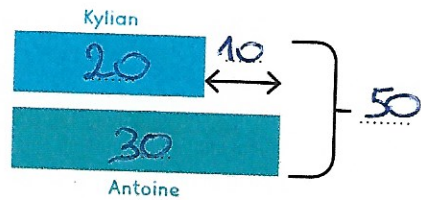


TRAVAILLONS ENSEMBLE

Complète le schéma et résous le problème.

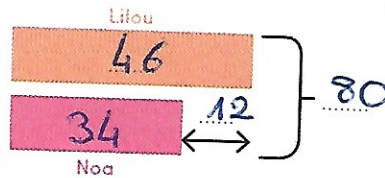
Problème 1 Antoine a 30€. Il a 10€ de plus que Kylian.
Combien d'argent ont-ils à eux deux?

Kylian : $30 - 10 = 20 \text{ €}$
 $30 + 20 = 50 \text{ €}$
 Ils ont 50 € à eux deux.



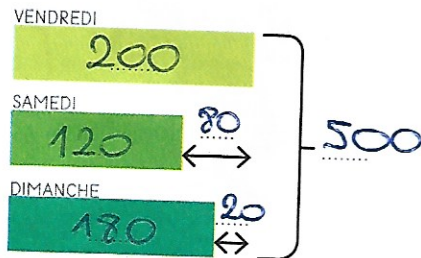
Problème 2 Lilou et Noa son petit frère cueillent des fleurs pour leur maman.
Noa a cueilli 34 fleurs, il a cueilli 12 fleurs de moins que Lilou.
Combien de fleurs ont-ils cueillies en tout?

Lilou : $34 + 12 = 46$
 $46 + 34 = 80$
 Ils ont cueilli 80 fleurs en tout.



Problème 3 Vendredi, le cirque Zovoto a accueilli 200 spectateurs.
Samedi, il a accueilli 80 spectateurs de moins que vendredi.
Dimanche, il a accueilli 20 spectateurs de moins que vendredi.
Combien de spectateurs le cirque a-t-il accueillis au total?

Samedi : $200 - 80 = 120$
 Dimanche : $200 - 20 = 180$
 $200 + 120 + 180 = 500$
 Il a accueilli 500 spectateurs.



EXERCICES

Résous les problèmes dans un cahier.

Problème 4 Madame Texto a reçu 15 SMS cette semaine. C'est 9 SMS de moins que ce qu'elle a reçu la semaine dernière.

Combien de SMS a-t-elle reçus au cours de ces deux semaines?
 Semaine dernière : $15 + 9 = 24$
 $24 + 15 = 39$

Elle a reçu 39 SMS.

Problème 5 Chaque wagon coûte 4€. La locomotive coûte 6€ de plus que les trois wagons réunis.

Quel est le prix de ce petit train?
 $4 \times 3 = 12 \text{ €}$ $12 + 6 = 18 \text{ €}$



Le train coûte $18 + 12 = 30 \text{ €}$.