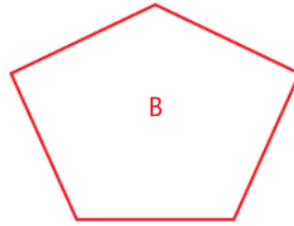
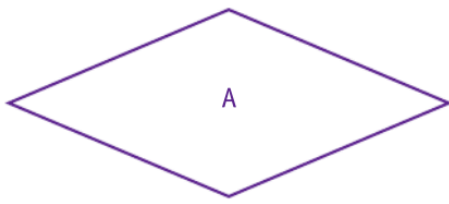
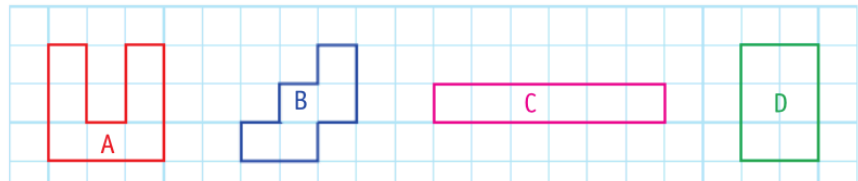


11 * Mesure les côtés de chaque figure, puis calcule leur périmètre.



12 * Observe les figures.

Range leur périmètre du plus petit au plus grand.



13 * Mesure les côtés de chaque figure, puis calcule leur périmètre en centimètres et millimètres.

