







LES CONTENANCES

EXERCICES CE1 - JEUDI

1 Entoure le récipient qui a la plus grande contenance.

	Bouteille	Casserole	Brique de lait
Contenance	 	 	 



2 **PROBLÈME** Voici ce qu'un adulte utilise en moyenne par jour comme eau :

bains et douches
58 L

ménage
9 L

WC
30 L

lessive
18 L

vaisselle
15 L

préparation des repas
9 L

lavage de voiture et arrosage du jardin
9 L

eau potable
2 L

- Combien de litres d'eau sont utilisés en moyenne chaque jour par un adulte ?
- Quelles sont les trois utilisations qui nécessitent le plus d'eau ?

3 Un agriculteur a 4 vaches. Chaque jour, il donne 50L d'eau à boire à chaque vache.

Combien de litres d'eau les 4 vaches boivent-elles par jour ?

