


Ecris les mots avec **un ou une** puis avec **des** sur ton cahier

[Z] s'écrit avec s



¹⁶
un vase

¹⁶
une rose

¹⁶
une valise

¹⁶
une caserne

¹⁶
une église

¹⁶
une case

¹⁶
un laser

¹⁶
un mimosa

des vases des roses des valises des casernes
des églises des cases des lasers des mimosas

Vrai ou faux ? *à l'oral*

Une riche dame achète des chaussons .

Une riche dame achète des chaussures .

La riche dame découpe le cuir .

Un homme bien vêtu entre dans la boutique .

correction

Vrai ou faux ?

Une riche dame achète des chaussons. faux

Une riche dame achète des chaussures. vrai

La riche dame découpe le cuir . faux

Un homme bien vêtu entre dans la boutique .vrai

La chasse aux erreurs

Recopie sur ton cahier le texte sans erreurs

Le jour m^ère, une ride dame
entra dans la boutique.

Elle toucha les chaussettes si
pelles qu'elle les pays un tr^ès
bon poux.

correction

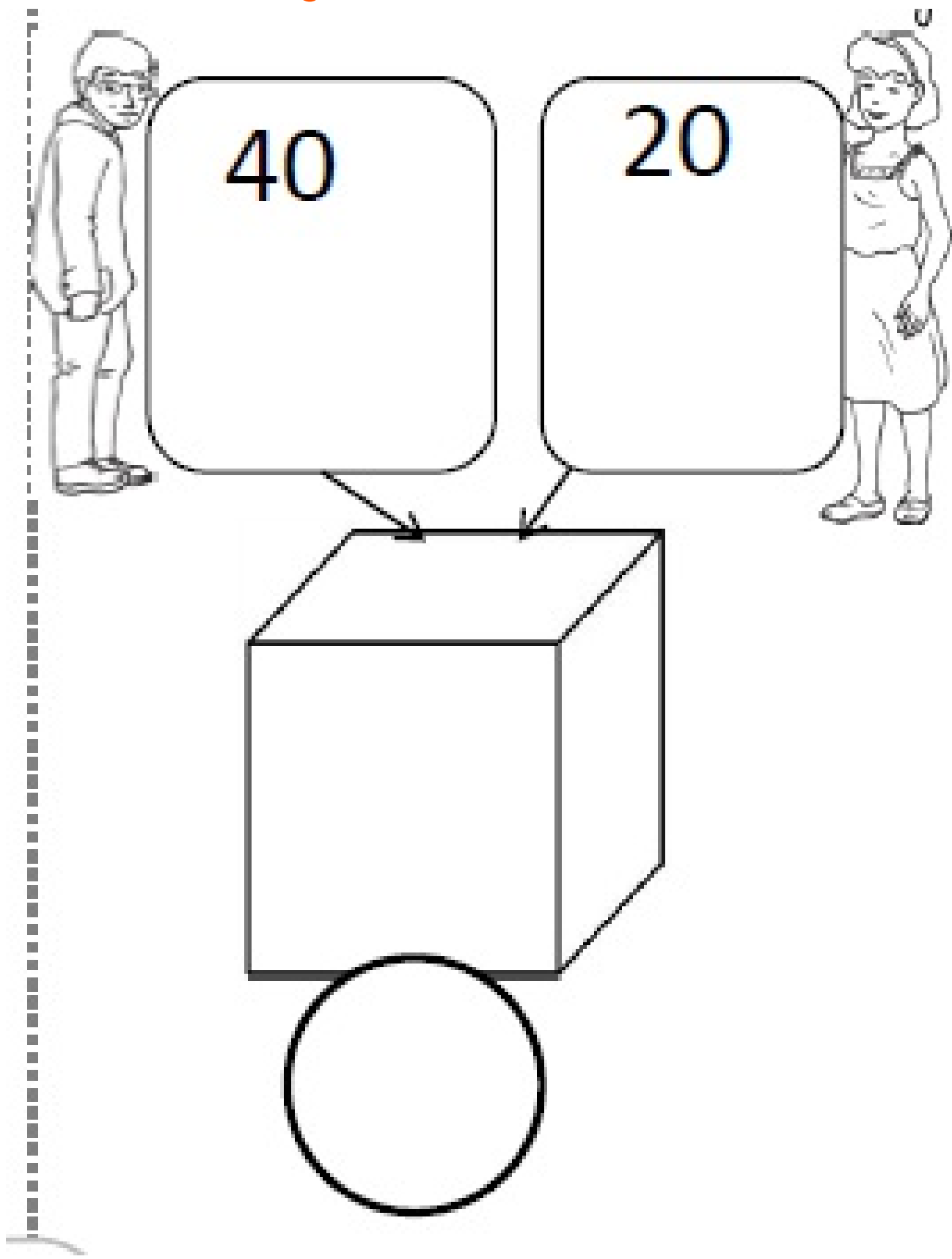
La chasse aux erreurs

Le jour **mère**, une **ride** dame
même riche
entra dans la boutique.

Elle **toucha** les **chaussettes** si
trouva chaussures
pelles qu'elle les **pays** un très
belles paya
bon **poux**.
prix

Situation problème

Combien y a-t-il de jetons dans la boîte?



Dessine les dizaines

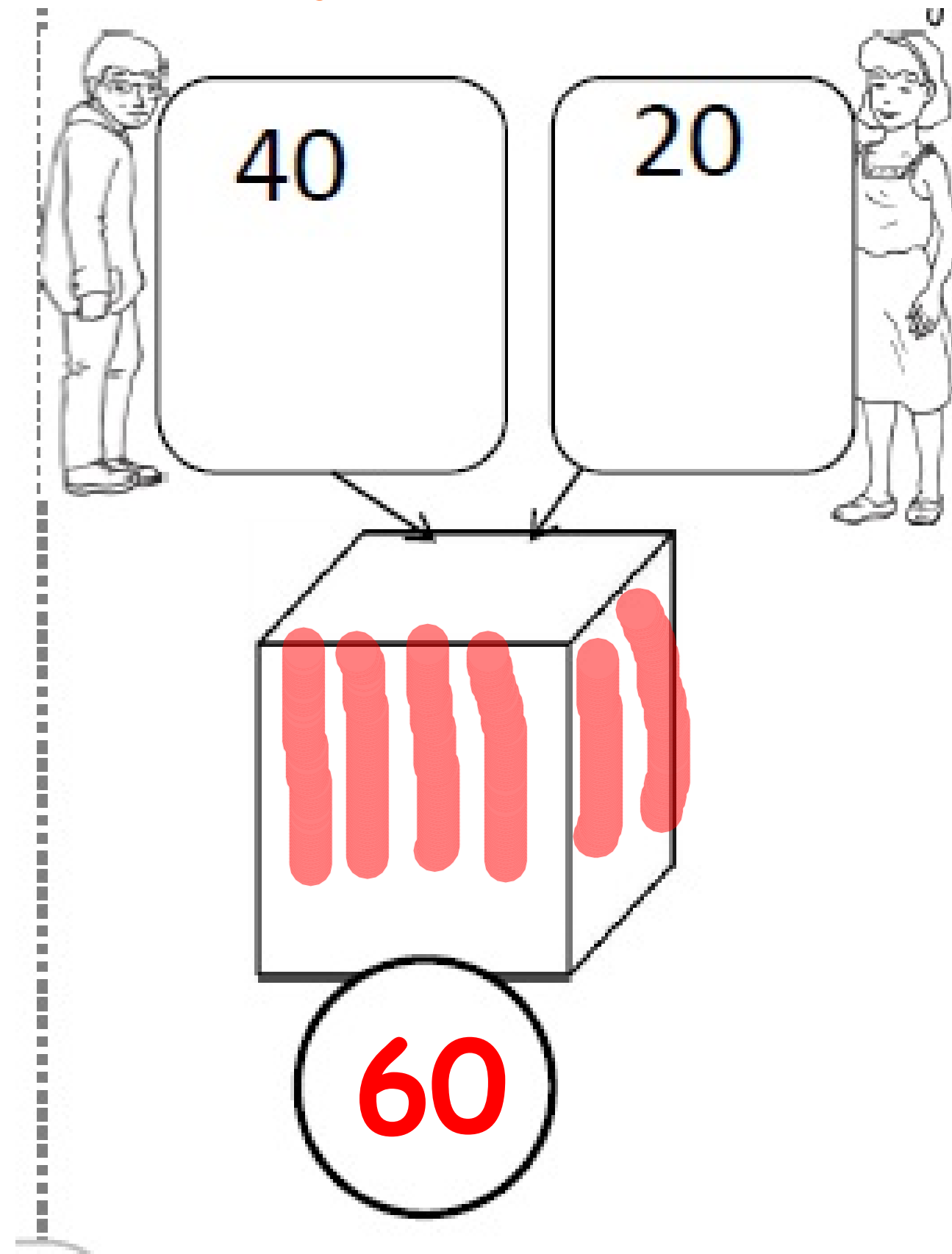
Ecris le nombre

Ecris le calcul

$$\dots + \dots = \dots$$

Situation problème

Combien y a-t-il de jetons dans la boîte?



Dessine les dizaines

Ecris le nombre

Ecris le calcul

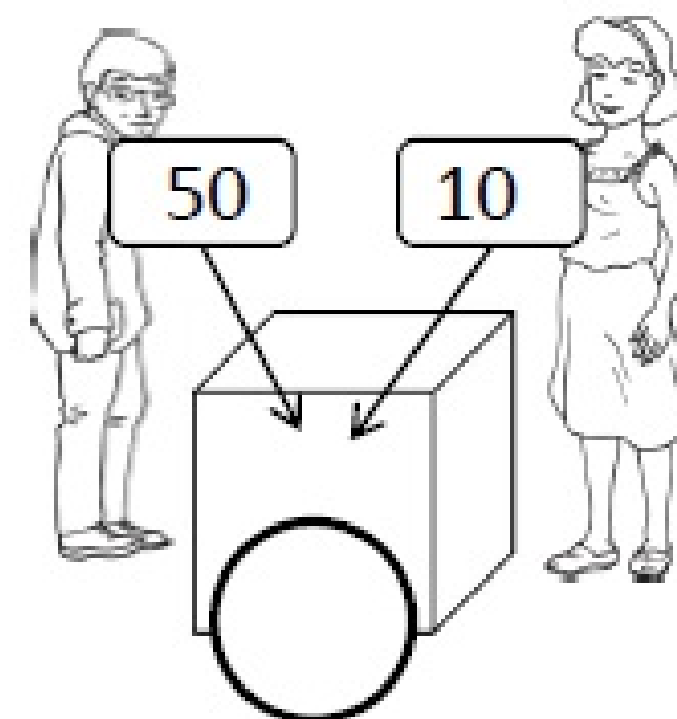
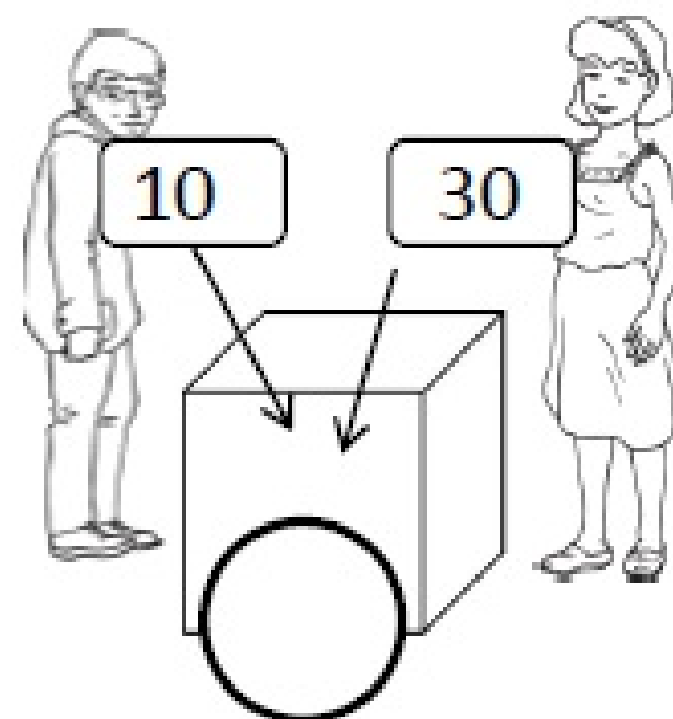
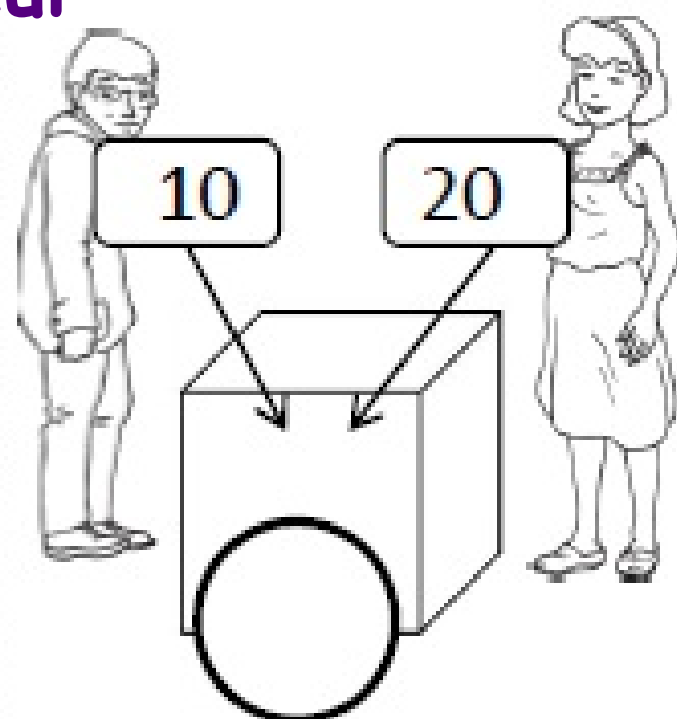
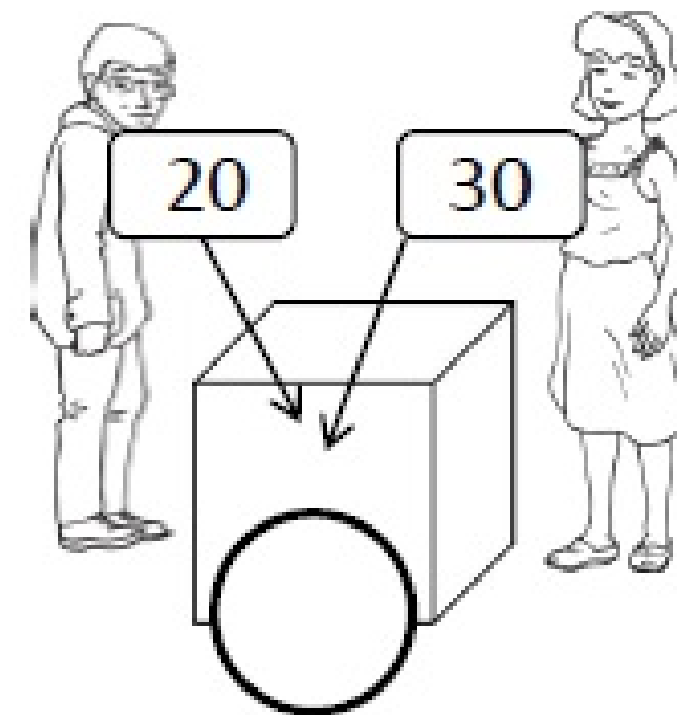
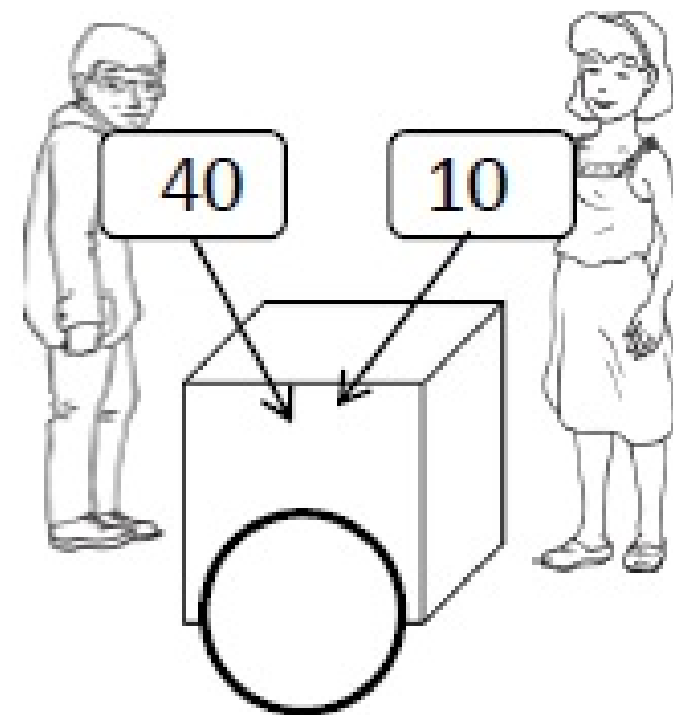

$$40 + 20 = 60$$

Combien y a-t-il de jetons dans la boîte?

Dessine les dizaines

Ecris le nombre

Ecris le calcul

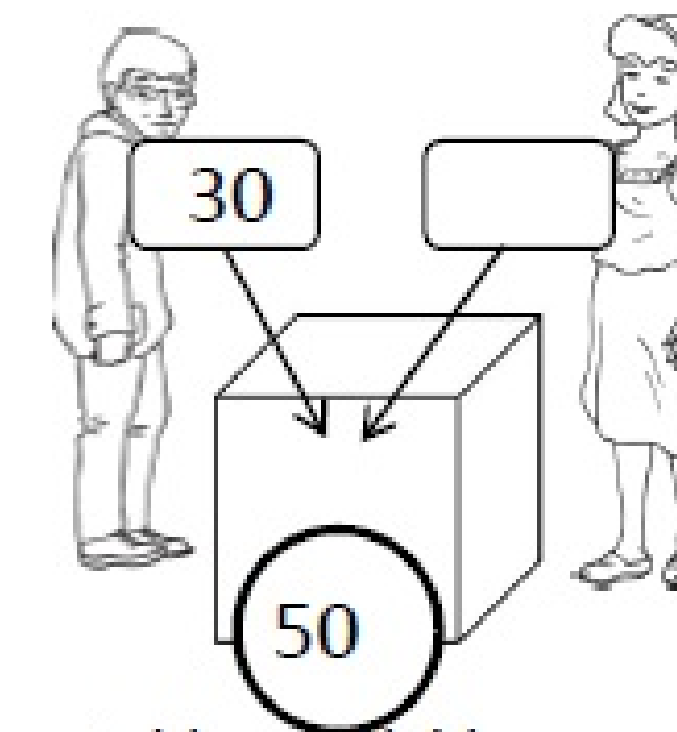
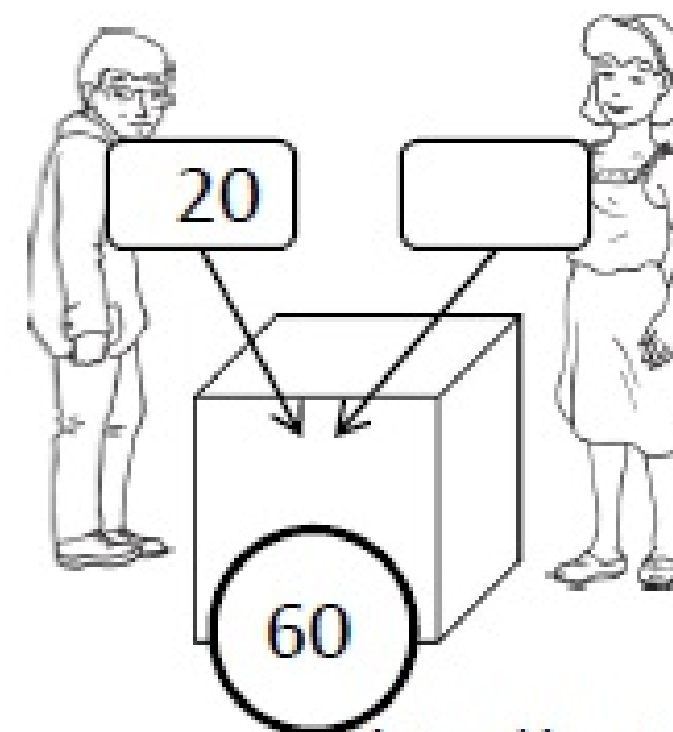
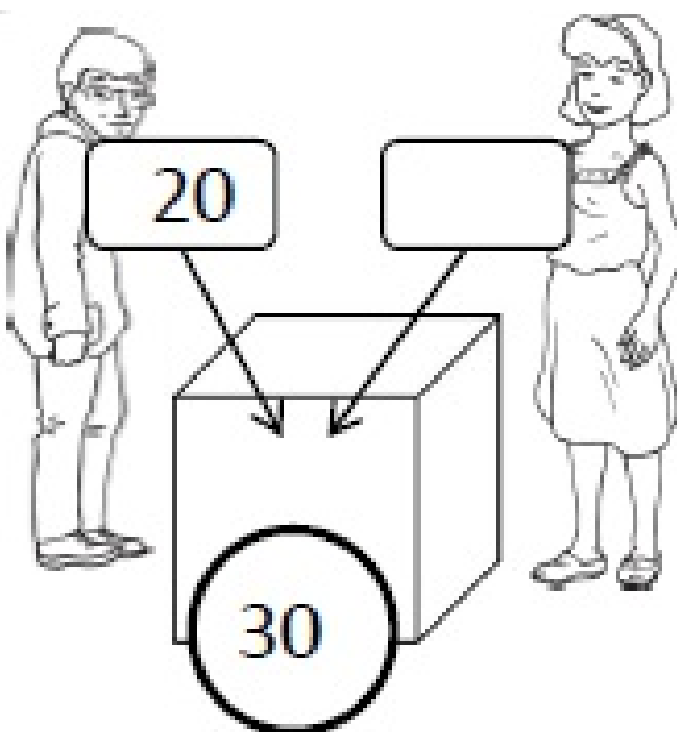


Combien de jetons Léa a mis dans la boîte?

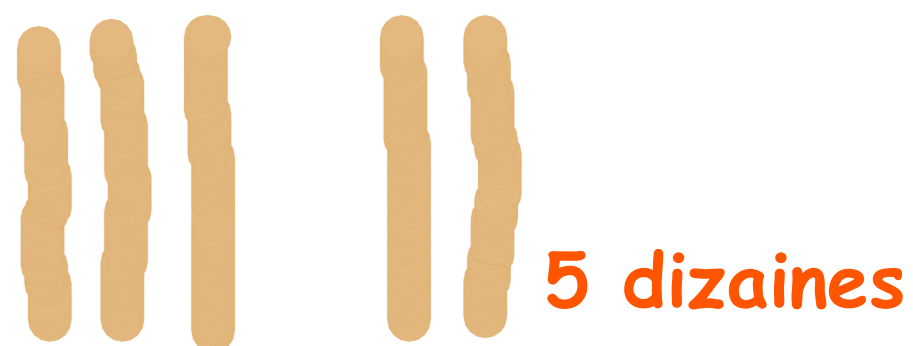
Dessine les dizaines de Léo en vert et les dizaines ajoutées en rouge

Ecris le nombre

Ecris le calcul




correction




5 dizaines

$$30 + 20 = 50$$



5 dizaines

$$40 + 10 = 50$$



5 dizaines

$$20 + 30 = 50$$



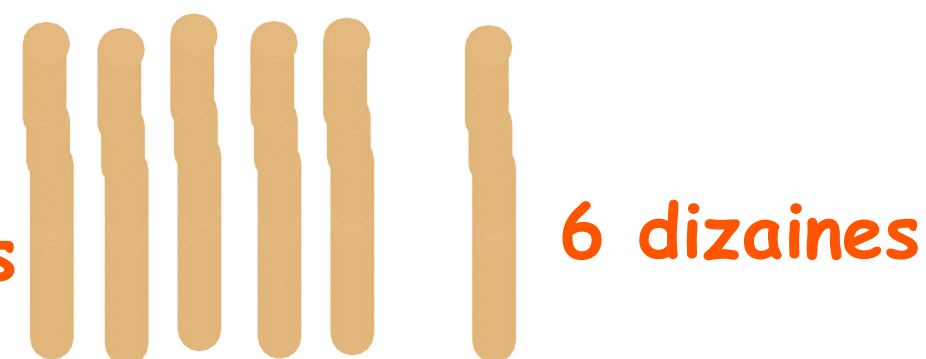
3 dizaines

$$10 + 20 = 30$$



4 dizaines

$$10 + 30 = 40$$



6 dizaines


$$50 + 10 = 60$$

il faut 3 dizaines




j'ajoute 1 dizaine à 2 pour faire 3

$$20 + 10 = 30$$



$$20 + 40 = 60$$



$$30 + 20 = 50$$

Observe et lis

Léo est né le 3 mars et Lise le 12 juin de la même année.

Prénoms	J	F	M	A	M	J	J	A	S	O	N	D		
Léo			[Bande verte colorée]											
Lise						[Bande orange colorée]								

Léo est plus vieux que Lise car il est né avant elle. (mars est avant juin). **La bande colorée est plus longue.**

Lise est plus jeune que Léo car elle est né après lui.

(juin est après mars). **La bande colorée est plus courte.**

*Si des élèves sont nés le même mois , le plus vieux (**jeune**) est celui qui est né avant (**après**) donc son numéro du jour est le plus petit (**grand**) .*

Ecris les prénoms des élèves de ton groupe et colorie pour chaque élève les cases de son mois de naissance à décembre

Prénoms	J	F	M	A	M	J	J	A	S	O	N	D

Range les élèves de ton groupe du plus vieux au plus jeune

groupe vert : Enya 12/07 Benjamin 17/06 Ellie 14/12 Sasha 12/10

groupe bleu : Méloé 27/06 Clémence 19/12 Louis 10/12 Gabriel 30/09

groupe orange : Capucine 17/07 Juliette 29/03 Chloé R 05/08

groupe jaune : Arthur 6/11 Eleonore 2/02 Jules O 23/08 Iria 02/04

groupe rouge : Sterenn 20/06 Jules B 30/03 Ernestine 18/03 Maxence 22/04

groupe violet : Chloé L 31/01 Marcel 26/03 Milo 09/03 Romane 22/03