

Vrai ou faux ?

Il faut un meneur .

Il faut un dé .

Il faut un mouchoir.

On noue un foulard sur le visage du meneur.

Le voleur le plus adroit et le plus silencieux est
le vainqueur .

Correction

Il faut un meneur . **vrai**

Il faut un dé . **faux**

Il faut un mouchoir. **vrai**



On noue un foulard sur le visage du meneur.

vrai


Le voleur le plus adroit et le plus silencieux est

le vainqueur . **vrai**

Observe les cartes



$$1 + 4 = 5$$



$$4 + 1 = 5$$

On peut inverser les cartes , le résultat est le même !

Qui a le plus d'argent ?

Léa ?





Léo ?



Calcule puis compare les 2 tirelires avec <


ou >



Correction



Léa a plus d'argent que Léo.



$$21 > 15$$

On compare d'abord les
dizaines 2d > 1d

Qui a le plus d'argent ?


Léa ?




Léo ?



Calcule puis compare les 2 tirelires avec





ou



Correction

Léa a plus d'argent que Léo.



$$23 > 22$$

Il y a le même nombre de dizaine. Je compare les unités
3 u > 2 u

Qui a le plus d'argent ?

Léa ?





Léo ?




Calcule puis compare les 2 tirelires avec

ou



Correction

Léo a plus d'argent que Léa.



$$23 < 32$$

On compare d'abord les
dizaines 2d < 3d

Qui a le plus d'argent ?

Léa ?



Léo ?

Compare les 2 tirelires avec



24 euros

.

28 euros

75 euros

.

93 euros

Correction

Léo a plus d'argent que Léa.



24 euros



28 euros

75 euros



93 euros

A 8 heures, il y a 22 voitures dans un parking .

Entre 8 heures et 9 heures, il y a 3 voitures qui se garent.

Entre 9 heures et 10 heures, il y a 4 voitures qui se garent.

Combien de voitures garées à 10 heures ?



Aide

Dessine les voitures au départ avec les dizaines et les unités.

Dessine les voitures qui se garent entre 8 et 9 h.

Dessine les voitures qui se garent entre 9 et 10 h.

Calcule et écris la phrase : Il y a ... voitures à 10 h.

à 8 h

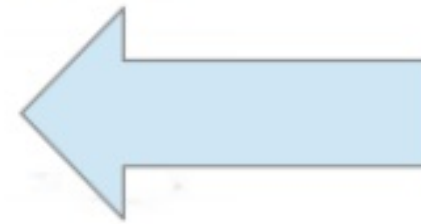


2 d 2 u



de 8 h à 9 h

+ 3 u



de 9 h à 10 h

+ 4 u



$$22 + 3 = 25$$



$$25 + 4 = 29$$

Il y a 29 voitures à 10 h.

Comment vivais-tu à ton époque ?

Quel âge as-tu ?

Quel est ta date de naissance?

Où es-tu né (e)?

A quoi jouiez-vous à ton époque ?

Quels objets existent aujourd'hui et n'existaient pas avant ?

Te souviens-tu d'un évènement très important?

Te souviens-tu de ce que tu mangeais quand tu avais mon âge?

L'école

Dans notre ville, il y a
Des tours, des maisons par milliers,
Du béton, des blocs, des quartiers,
Et puis mon cœur, mon cœur qui bat
Tout bas.

Dans mon quartier, il y a
Des boulevards, des avenues,
Des places, des ronds-points, des rues
Et puis mon cœur, mon cœur qui bat
Tout bas.

Dans notre rue, il y a
Des autos, des gens qui s'affolent,
Un grand magasin, une école,
Et puis mon cœur, mon cœur qui bat
Tout bas.

Dans cette école, il y a
Des oiseaux chantant tout le jour
Dans les marronniers de la cour.
Mon cœur, mon cœur, mon cœur qui bat
Est là.