

Vrai ou faux ?

Le Benêt veut rentrer chez lui.

Le Benêt veut se reposer dans une auberge.

L'aubergiste est une fripouille.

L'aubergiste a trois fils .

Le Benêt veut rentrer chez lui. Faux

Le Benêt veut se reposer dans une auberge. Vrai

L'aubergiste est une fripouille. Vrai

L'aubergiste a trois fils . Faux

Relie chaque phrase au personnage qui convient

Il veut voler quelques plumes de l'oie.

le Benêt



Elle reste collée à une plume d'or.

l'aubergiste



Il veut arrêter le cortège.

la fille



Il s'en va avec son oie sous le bras.

le Curé



Correction

Il veut voler quelques plumes de l'oie.

le Benêt




Elle reste collée à une plume d'or.

l'aubergiste



Il veut arrêter le cortège.

la fille



Il s'en va avec son oie sous le bras.

le Curé





L'écriture en lettres

1	un
2	deux
3	trois
4	quatre
5	cinq

6	six
7	sept
8	huit
9	neuf
10	dix

L'écriture en lettres



Léo achète une toupie à 4 euros .Il donne au marchand 10 euros .Calcule la monnaie que le marchand lui rend .






$$4 + \color{red}{6} = 10$$

$$10 - 4 = \color{red}{6}$$

Le marchand rend 6 euros à Léo.



Les compléments à 10

0 + ●	6 + ●
1 + ●	7 + ●
2 + ●	8 + ●
3 + ●	9 + ●
4 + ●	10 + ●
5 + ●	


Les devinettes

Première situation

Je m'appelle Mathis, j'ai 6 ans.

Ma sœur a 5 ans de plus que moi.

Quel âge a-t-elle ?

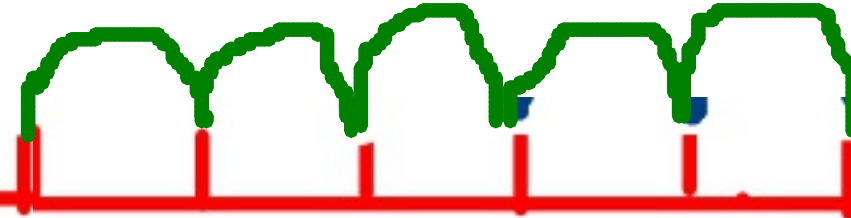


1 2 3 4 5 6 ans



Mathis

1 2 3 4 5



ans de plus

sa soeur


$$6 + 5 = 11$$

Ma soeur a 11 ans

.


Deuxième situation

Djibril a 56 timbres.
Il en a 12 de plus que Sophie.
Combien Sophie a-t-elle de timbres ?



Troisième situation

Djibril a 56 timbres.
Sophie en a 12 de plus que lui.
Combien Sophie a-t-elle de timbres ?

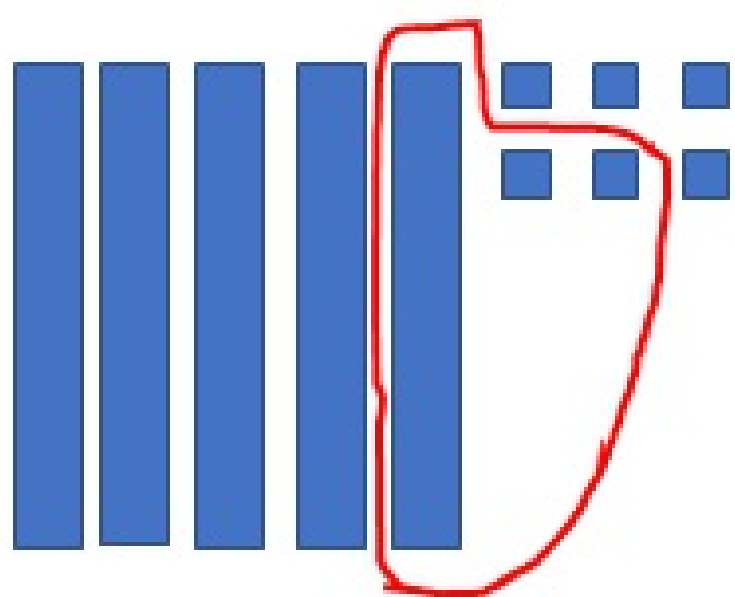


Deuxième situation

Djibril a 56 timbres.

Il en a 12 de plus que **Sophie**.

Combien Sophie a-t-elle de timbres ?



$$56 - 12 = 44$$

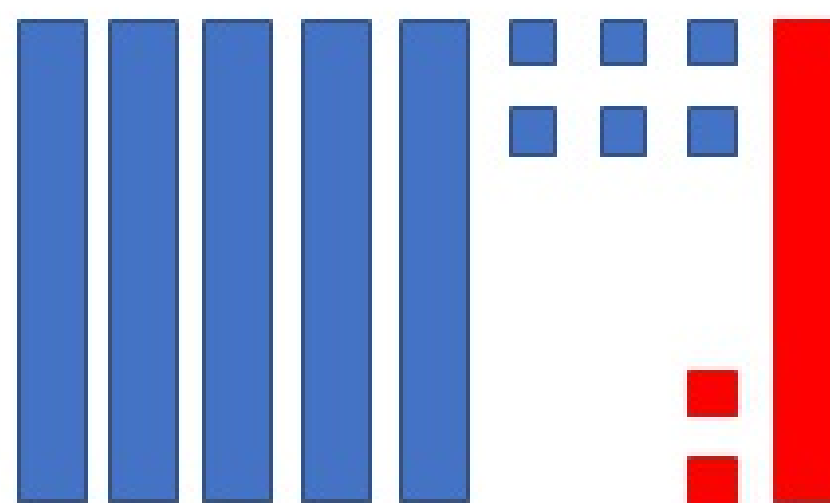


Troisième situation


Djibril a 56 timbres.

Sophie en a 12 de plus que **lui**.

Combien Sophie a-t-elle de timbres ?



$$56 + 12 = 68$$



La frise chronologique(exemple)

Vous pouvez ajouter les grands-parents et les arrières grands-parents maternels
Remarquer les générations concentrées à différents endroits de la frise

