







# MESURE DE MASSE : LE G ET LE KG

## EXERCICES CE1 VENDREDI

**3** Écris l'unité de mesure de masse qui convient.

					
30 .....	100 .....	5000 .....	12 .....	5 .....	250 .....

**2** ✨ ✨ Convertis en grammes.

*Ex. : 2 kg 500 g = 2 000 g + 500 g = 2 500 g*

**a.** 3 kg 200 g      **b.** 3 kg 5 g      **c.** 6 kg 20 g

**3** ✨ ✨ Convertis en kilogrammes et grammes.

*Ex. : 4 007 g = 4 000 g + 7 g = 4 kg 7 g*

**a.** 2 700 g                      **c.** 3 080 g  
**b.** 6 008 g                      **d.** 4 052 g

**4** ✨ ✨ Complète avec < , > ou = .

**a.** 1 250 g .... 1 kg 250 g  
**b.** 7 kg .... 7 400 g  
**c.** 2 kg 40 g .... 2 400 g  
**d.** 4 kg 30 g .... 4 030 g