



**Le chat joue .**

**Il joue .**  
*singulier*



**Les chats jouent .**

**Ils jouent .**  
*pluriel*

*Entoure la phrase qui va :*



Elles marchent.

Elle marche.

Ils marchent.

Il marche.

Il court.

Elle court.

Ils courent.

Elles courent.



**titre**

---

**Nombre de joueurs:**

---

**Matériel:**

---

---

**Règle du jeu:**

---

---

---

**Le gagnant doit être le premier à atteindre la case ciel .**

**Choisis ou invente le titre :**

**La marelle des CP                      De la terre jusqu'au ciel**

**La marelle des champions              La marelle .....**

**Choisis le matériel :**

**une craie      un dé      un caillou      une fourchette**

**Règle du jeu/ recopie dans l'ordre ce qu'il faut faire :**

**Faire le parcours.**

**Tracer la marelle sur le sol.**

**Ramasser le caillou .**



**Lancer le caillou dans la case 2.**

**Lancer le caillou dans la case 1.**

$$36 + 19$$

c'est comme

$$35 + 20$$



je prends 1 unité à 6 pour  
faire 1 dizaine entière

$$55$$

**Calcule :**

$$27 + 9 =$$

$$16 + 9 =$$

$$44 + 9 =$$

$$78 + 9 =$$

$$15 + 19 =$$

$$37 + 19 =$$

$$68 + 19 =$$

$$73 + 19 =$$

Emma joue à un jeu de l'oie. Son pion est sur la case 4.  
Elle doit l'avancer de trois cases.

Elle rejoue et doit encore l'avancer de douze cases.


**Sur quelle case va-t-elle poser son pion ?**



Emma joue à un jeu de l'oie. Son pion est sur la case **42**.  
Elle doit l'avancer de douze cases.

Elle rejoue et doit encore l'avancer de vingt-et-une cases.

**Sur quelle case va-t-elle poser son pion ?**





# les métiers

Relie :

la boulangerie ●

la banque ●

le garage ●

la boucherie ●

le restaurant ●

la bureau de tabac ●

la pharmacie ●

l'épicerie ●

● le boucher

● le restaurateur

● le boulanger

● le banquier

● le garagiste

● le pharmacien

● l'épicier

● le buraliste

*Entoure la phrase qui va :*



Elles marchent.

Elle marche.

Ils marchent.

Il marche.

Il court.

Elle court.

Ils courent.

Elles courent.



**Calcule :**

$$27 + 9 = 36$$

$$16 + 9 = 25$$

$$44 + 9 = 53$$

$$78 + 9 = 87$$

$$15 + 19 = 35$$

$$37 + 19 = 56$$

$$68 + 19 = 87$$

$$73 + 19 = 92$$

Emma joue à un jeu de l'oie. Son pion est sur la case 4.  
 Elle doit l'avancer de trois cases.  
 Elle rejoue et doit encore l'avancer de douze cases.  
**Sur quelle case va-t-elle poser son pion ?**



$$\begin{array}{r}
 4 + 3 + 12 \\
 \phantom{4 + 3} + 4 \\
 \phantom{4 + 3} + 3 \\
 \phantom{4 + 3} + 1 \phantom{2} \\
 \hline
 19
 \end{array}$$

Elle va poser son pion sur la case 19 .

Emma joue à un jeu de l'oie. Son pion est sur la case **42**.  
Elle doit l'avancer de douze cases.

Elle rejoue et doit encore l'avancer de vingt-et-une cases.  
**Sur quelle case va-t-elle poser son pion ?**



$$\begin{array}{r} 42 \\ + 21 \\ \hline 75 \end{array}$$

Elle va poser son pion sur la case 75 .

# les métiers

Relie :

la boulangerie

la banque

le garage

la boucherie

le restaurant

la bureau de tabac

la pharmacie

l'épicerie



le boucher

le restaurateur

le boulanger

le banquier

le garagiste

le pharmacien

l'épicier

le buraliste

