



LUNDI 13 AVRIL



1 1 1 1 1

2 2 2 2 2

3 3 3 3 3

S S S S S

F F F F F

E E E E E

N N N N N

G G G G G

GAËLLE GAËLLE

.....

MARDI 14 AVRIL



lele lele lele lele

o o o o o

e e e e e

I I I I I

T T T T T

P P P P P

R R R R R

B B B B B

G G G G G

A A A A A

E E E E E

GAËLLE GAËLLE

.....

JEUDI 16 AVRIL

W

l

o

/

lllll

ww

uuuu

+

X

+

X

1

5

6

7

H

U

K

L

GAËLLE

.....

4

5

6

7

H

U

K

L

GAËLLE

.....

4

5

6

7

H

U

K

L

GAËLLE

.....

VENDREDI 17 JANVIER

llll

eeee

o o o . . .

O O .

eeee

llll

llll

^ ^ ^ ^

v v v v

7

8

9

C

D

B

G

P

GÆLLE

.....

7

8

9

C

D

B

G

P

GÆLLE

7

8

9

C

D

B

G

P

GÆLLE

7

8

9

C

D

B

G





P

GÆLLE

Phonologie - Lecture

son (é)

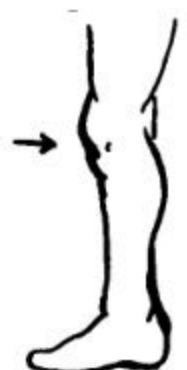
Consigne: Compte et écris le nombre de syllabes que tu entends.



Phonologie - Lecture

son (e)

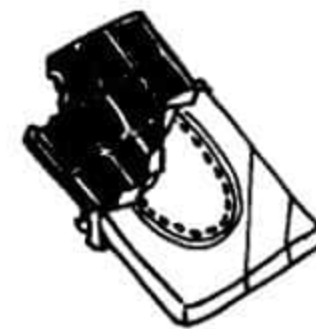
Consigne : Compte et écris le nombre de syllabes que tu entends.



Phonologie - Lecture

son (o)


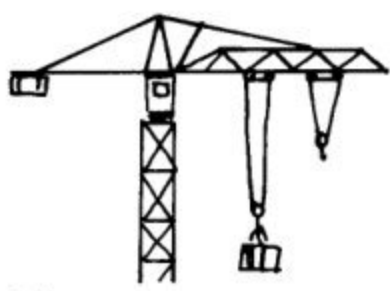

Consigne : Compte et écris le nombre de syllabes que tu entends.



Phonologie - Lecture

son (u)

Consigne : Compte et écris le nombre de syllabes que tu entends.

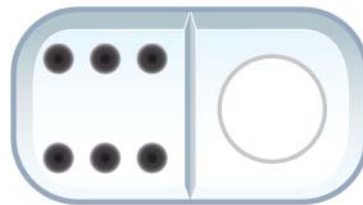
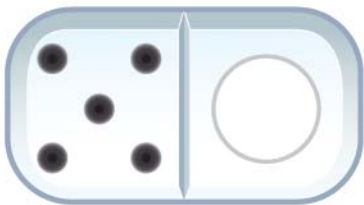
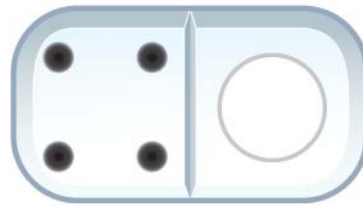
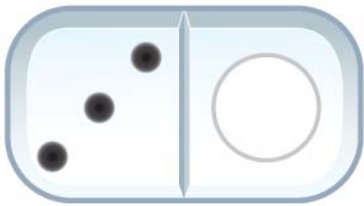
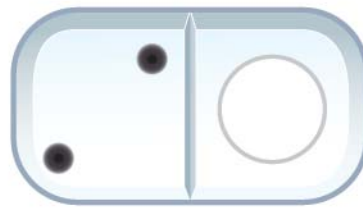
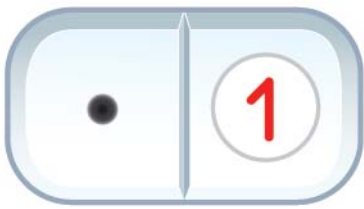


Écrire les nombres de 1 à 6

Nom :

Date :

1. Pour chaque domino, écris dans la bulle de droite le chiffre qui correspond.




2. Écris les chiffres.

1 1 1

2 2 2

3 3 3



défi

Combien y a-t-il d'enfants sur la photo ?

Combien y a-t-il d'adultes ?

Montre et nomme 3 couleurs différentes.

Combien de bébés sont couchés sur un tapis de jeu ?



défi

Combien y a-t-il de poules ?

Combien y a-t-il d'animaux sur la photo ?

Combien manque-t-il de poussins pour que chaque poule en ait un ?

Combien d'animaux ont du jaune ?



défi

Nomme toutes les couleurs des cubes.

Y a-t-il autant de cubes rouges que de cubes verts ?

Combien y a-t-il de cubes bleu ?

Combien y a-t-il de cubes emboîtés pour former la tour couchée ?

