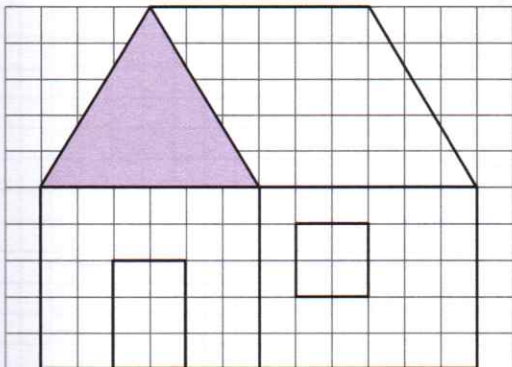
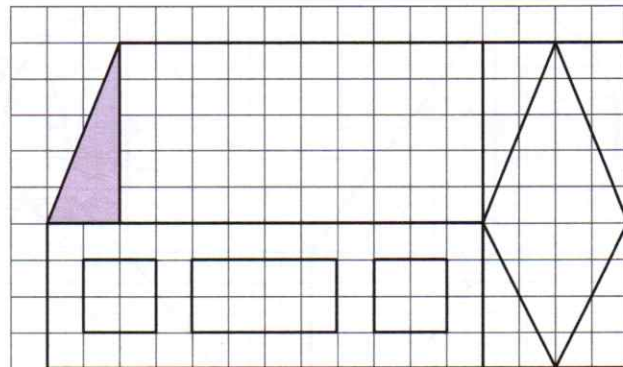


1 Observe bien ces deux assemblages de figures et complète les deux tableaux.


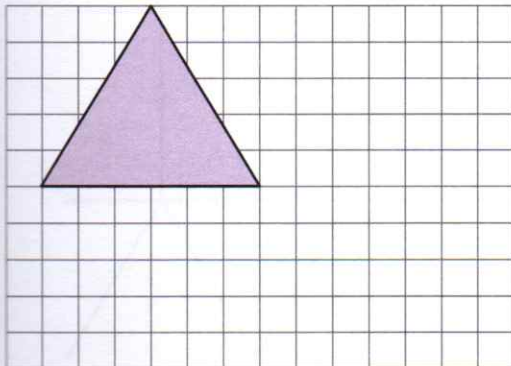


Nombre de ...	Carrés	<input type="text"/>
	Losanges	<input type="text"/>
	Triangles	<input type="text"/>
	Rectangles	<input type="text"/>



Nombre de ...	Carrés	<input type="text"/>
	Losanges	<input type="text"/>
	Triangles	<input type="text"/>
	Rectangles	<input type="text"/>

2 Reproduis les deux maisons de l'exercice 1.



3 Le défi de Robotine !

Construis l'assemblage comme indiqué dans les consignes. Colle les figures les unes aux autres.

- 1 rectangle de 7 cm de longueur et 4 cm de largeur.
- 1 carré de 3 cm de côté.
- 1 triangle équilatéral de 3 cm de côté.

