

CALCUL MENTAL • Écrire au tableau des calculs du type $7 \text{ € } 50 \text{ c} + 2 \text{ € } 50 \text{ c}$. → Faire écrire le résultat.

9 € 80 c

12 €

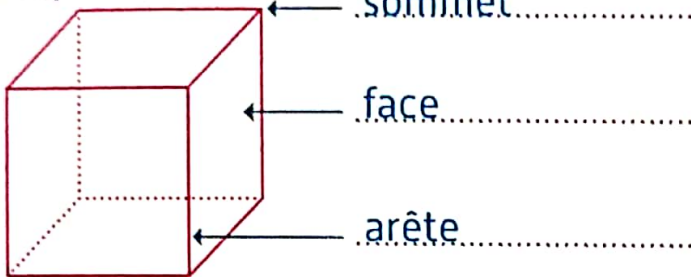
24 € 10 c

20 €

80 €

1

Complète.

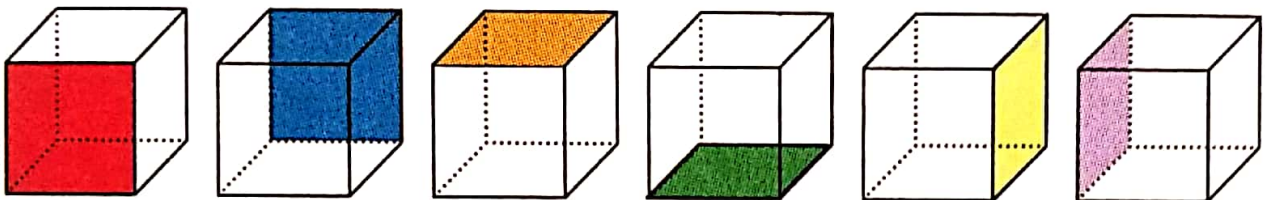


Complète le texte.

- Le cube a **6** faces, **8** sommets et **12** arêtes.
- Les faces du cube sont des **carrés** qui sont de même dimension.

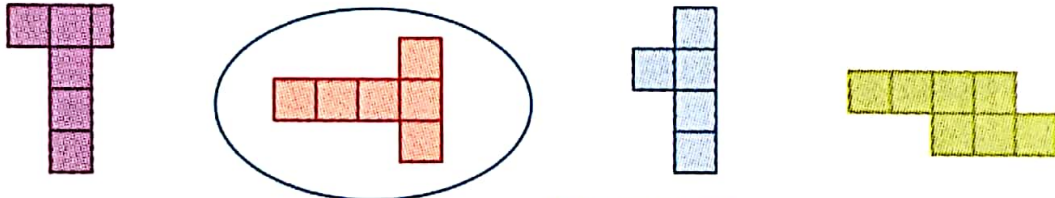
2

Deux faces du cube ont été coloriées. Colorie les autres faces avec quatre couleurs différentes.




3

Entoure l'assemblage qui est un patron du cube.




4

Ces carrés appartiennent à 3 patrons de cubes différents. Colorie d'une même couleur les faces d'un même patron de cube.



5 PROBLEME

Colorie ce patron de cube de telle sorte que deux zones qui se touchent après fermeture ne soient pas de la même couleur.



Utilise le moins de couleurs possibles.

