

CALCUL MENTAL • Énoncer des phrases du type « J'en ai 6, j'en veux 3 fois plus. » ; « J'en ai 8, j'en veux 2 fois moins. »

...18...





...72...

...72...

...6...

...7...

1 Utilise tes instruments pour retrouver les propriétés de ces triangles et complète le tableau en ajoutant des croix.

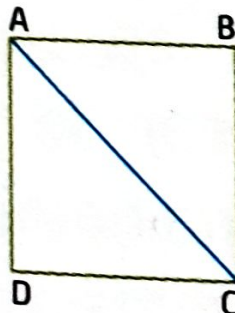


Le triangle possède :	Triangle A	Triangle B	Triangle C	Triangle D
1 angle droit		X		X
2 côtés de même longueur	X		X	X

Quels sont les triangles rectangles ? Les triangles B et D sont rectangles.

2 Lis cet exemple.

Exemple :
Le polygone ABCD a 4 côtés.
Les côtés sont tous de la même longueur.
Le polygone a 4 angles droits.
C'est un carré.



Relie les points A et C.
Décris et nomme le polygone ABC comme dans l'exemple.

Le polygone ABC a 2 côtés de...
même longueur. Il a 1 angle droit.
C'est un triangle rectangle.

3 Trouve un triangle rectangle sur chaque figure et repasse ses côtés au crayon à papier.

