


**CALCUL MENTAL** • Écrire au tableau des calculs du type  $7 \times 5 \times 2$  ;  $2 \times 4 \times 5$ . → Faire écrire le résultat.

- 70
- 90
- 40
- 60
- 30

**1** Aujourd'hui, le Planétarium a vendu 6 paquets de 20 cartes postales d'étoiles. Combien de cartes postales ont été vendues ? Complète.

$6 \times 20 = \dots 6 \dots \times \dots 2 \dots \times 10 = \dots 12 \dots \times 10 = 120 \dots$

Le Planétarium a vendu 120..... cartes postales.




**2** Pour réaliser une maquette, Lali a besoin de 7 boîtes de 300 allumettes. Combien d'allumettes cela fait-il en tout ? Complète.

$7 \times 300 = \dots 7 \dots \times \dots 3 \dots \times 100 = 21 \dots \times 100 = 2.100 \dots$

Lali a besoin de 2.100..... allumettes.



**3** Calcule le nombre de points obtenus par chaque enfant.



Agatha =  $1 \times 500 = 500$   
 $2 \times 300 = 2 \times 3 \times 100 = 6 \times 100 = 600$   
 $2 \times 20 = 2 \times 2 \times 10 = 4 \times 10 = 40$   
 Nino =  $2 \times 500 = 2 \times 5 \times 100 = 10 \times 100 = 1.000$   
 $3 \times 20 = 3 \times 2 \times 10 = 6 \times 10 = 60$


Agatha : 1.140..... Nino : 1.060.....

**4** Calcule.  
 $2 \times 30 = 2 \times 3 \times 10 = 60$  |  $600 \times 6 = 6 \times 100 \times 6 = 3.600$   
 $5 \times 20 = 5 \times 2 \times 10 = 100$  |  $500 \times 9 = 100 \times 5 \times 9 = 4.500$   
 $8 \times 50 = 8 \times 5 \times 10 = 400$  |  $4 \times 2.000 = 4 \times 2 \times 1.000 = 8.000$

**5** Calcule.  
 $2 \times 4.000 = 8.000$  |  $9 \dots \times 600 = 5.400$   
 $8 \times 300 \dots = 2.400$  |  $8 \dots \times 900 = 7.200$   
 $9 \times 400 \dots = 3.600$  |  $7 \dots \times 500 = 3.500$

**6 PROBLÈME**  
 Un TGV roule à 300 km par heure. Combien de kilomètres parcourt-il :

en 2 heures ? 600 km en 4 heures ? 1.200 km  
 en 7 heures ? 2.100 km.



**7 PROBLÈME**  
 Anna a acheté 60 sachets de 40 ballons pour son anniversaire. Combien de ballons a-t-elle achetés en tout ?



$60 \times 40 = 6 \times 10 \times 4 \times 10 = 24 \times 100 = 2.400$

Anna a acheté 2.400 ballons en tout.