




# Numération

Fiche 13

1 Compte de 1 en 1 et continue cette frise numérique.



2 Compare les nombres en utilisant le signe < ou le signe >



80 ... 89


26 ... 16

95 ... 59

79 ... 98

96 ... 59

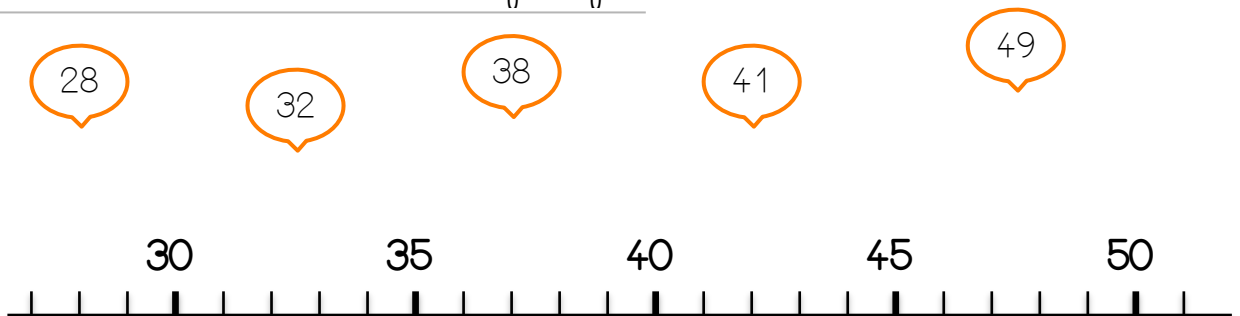
7 ... 70



3 Complète le tableau comme le modèle.

32	3 dizaines et 2 unités	$10 + 10 + 10 + 2$
51		
47		
64		
19		


4 Relie les nombres sur la ligne graduée






# Numération

1 Ecris ces nombres en lettres .




--	--	--	--	--	--	--	--	--	--



--	--	--	--	--	--	--	--	--	--

2 Compare les nombres en utilisant le signe < ou le signe >



63 ... 60


47 ... 74

99 ... 88

50 ... 60

80 ... 8

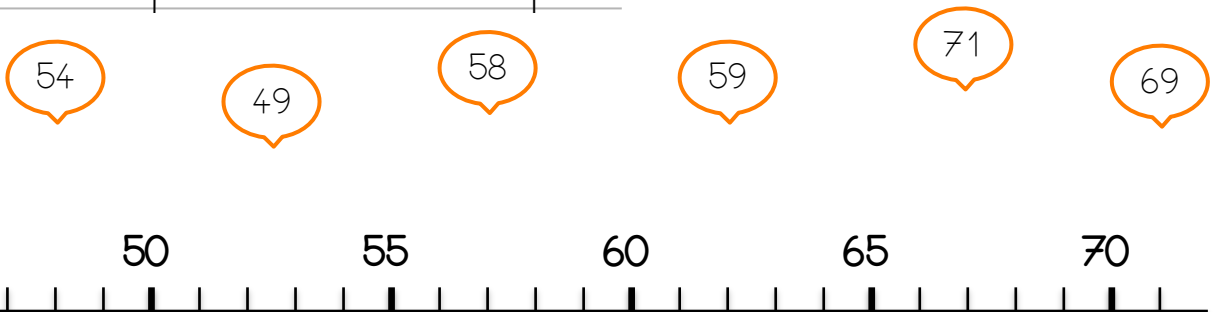
35 ... 55



3 Complète le tableau comme le modèle.

78	7 dizaines et 8 unités	$10 + 10 + 10 + 10 + 10 + 10 + 10 + 8$
	4 dizaines et 5 unités	
		$10 + 10 + 10 + 10 + 10 + 10 + 2$
36		
	5 dizaines et 3 unités	

4 Relie chaque nombre à son repère.









# Numération

1 Ecris ces nombres en lettres .




--	--	--	--	--	--	--	--	--	--	--	--	--	--	--	--	--	--	--	--




--	--	--	--	--	--	--	--	--	--	--	--	--	--	--	--	--	--	--	--

2 Tirobot a fabriqué 100 cocottes en papier . Entoure les 100 cocottes.




3 Entoure 100 euros.



4 Dessine des cartes de 10 pour obtenir 100.

10	10	10	10
10	10	10	10



5 Compte de 1 en 1


90																			
----	--	--	--	--	--	--	--	--	--	--	--	--	--	--	--	--	--	--	--






# Numération

1 Ecris ces nombres en lettres .

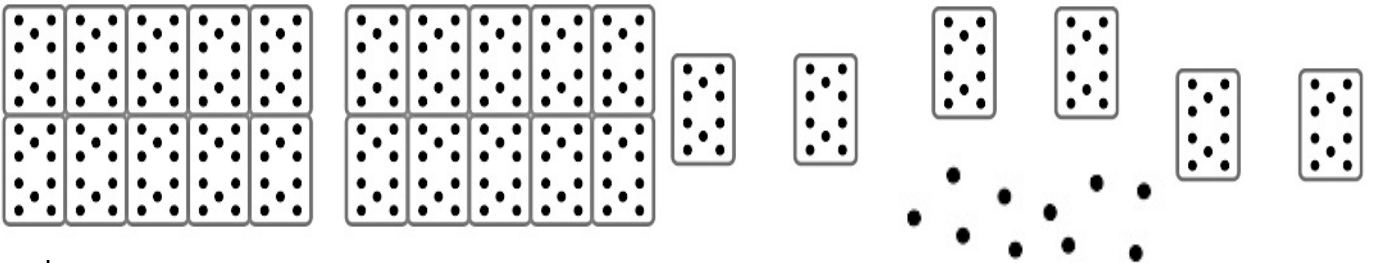


--	--	--	--	--	--	--	--	--	--

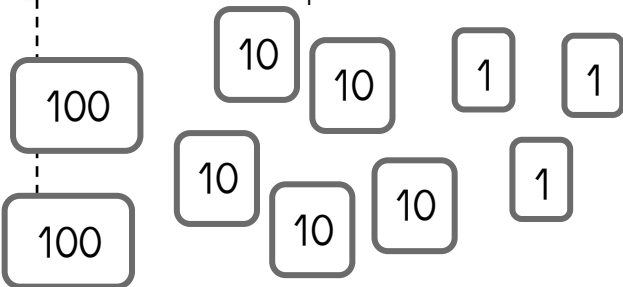


--	--	--	--	--	--	--	--	--	--

2 Robotine veut 145 perles. Entoure le bon nombre de cartes.



3 Combien de perles à Tirobot ? Ecris le bon nombre.



--


centaines

--

dizaines

--

unités



4 Complète le tableau comme le modèle.


200	2 centaines	100 + 100 + 40
100		
400		
300		
500		






# Numération

1 Ecris ces nombres en lettres .

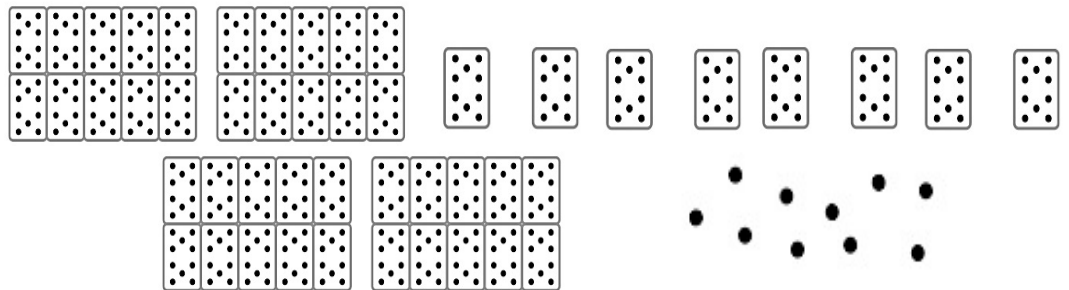



--	--	--	--	--	--	--	--	--	--	--	--	--	--	--	--



--	--	--	--	--	--	--	--	--	--	--	--	--	--	--	--

2 Entoure le nombre de perles demandées par Robotine.



3 Combien de perles à Tirobot ? Ecris le bon nombre.

100   10   10   10   1


100

100   10   10   10

100

100   10

	centaines
	dizaines
	unités



4 Complète le tableau comme le modèle.

240	2 centaines et 4 dizaines	$100 + 100 + 40$
150		
320		
470		
210		