

CAUCUL MENTAL • Écris au tableau le résultat d'un nombre du type 2294 + 4379. Soigne tes nombres à 3 chiffres à retourner.

322

903


111

879

794


1 *

La responsable du Planétarium a besoin d'un nouveau télescope pour observer la Lune. A-t-elle assez d'argent ?



Non, il lui manque 1 €.

Nino veut acheter une loupe pour les enquêtes. A-t-il assez d'argent ?



Oui, il a la somme exacte.

2 **

Combien d'euros le client va-t-il payer ?



$$6 \text{ €} + 80 \text{ c} + 50 \text{ c} + 3 \text{ €} 20 \text{ c} + 3 \text{ €} 20 \text{ c} = 6 \text{ €} + 1 \text{ €} 30 \text{ c} + 6 \text{ €} 40 \text{ c} = 7 \text{ €} 30 \text{ c} + 6 \text{ €} 40 \text{ c} = 13 \text{ €} 70 \text{ c}$$

Le client va payer 13 € 70 c.

3 **

Combien d'euros rendra-t-on à chacun de ces clients ?


a. Natacha achète un livre à 36 €, elle donne un billet de 100 €.

On lui rendra 64 €.

b. Fabio achète des chaussons de danse à 39 € 70 c.

Il donne un billet de 50 €.

On lui rendra 10 € 30 c.



4 ***

Pour acheter un ordinateur à 467 €, Iris a 3 billets de 100 €, 3 billets de 50 €, 1 billet de 10 €, 1 pièce de 2 € et 2 pièces de 50 c. A-t-elle assez d'argent pour acheter l'ordinateur ? Si non, combien d'euros lui manque-t-il ?

Iris a 463 €, elle n'a donc pas assez. Il lui manque 4 €.

