


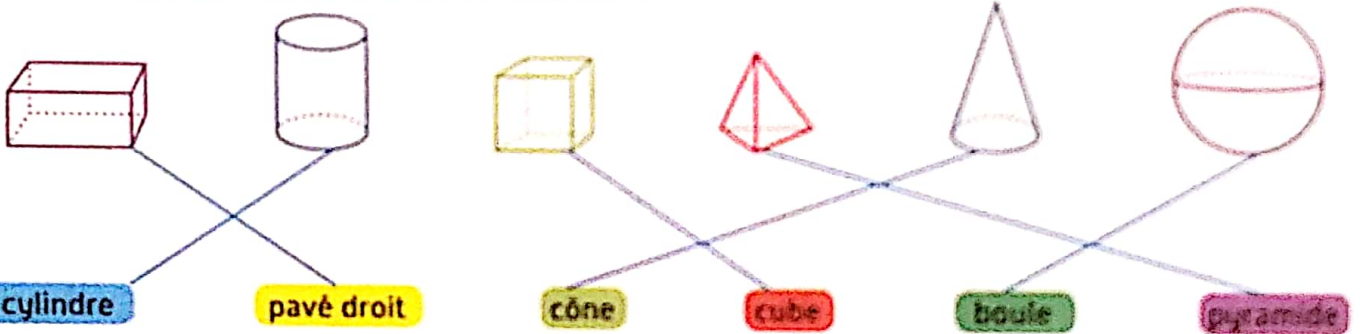
CALCUL MENTAL • Énoncer des phrases du type « Je donne 100 € pour payer 58 €, combien va-t-on me rendre ? » → Faire écrire le résultat.

- 30 €
- 42 €
- 15 €
- 18 €
- 39 €

1 Ces photos représentent des solides. Entoure ceux dont toutes les faces sont planes.



2 Relie ces représentations de solides à leur nom.



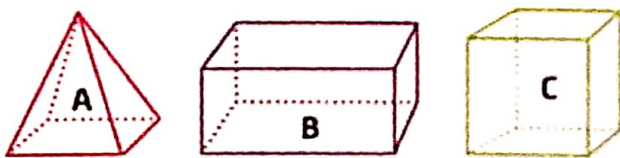
3 Colorie de la même couleur les noms de solides et leur description.

boule
 cône
 pyramide
 pavé droit
 cube
 cylindre

Je n'ai qu'une seule face.
 Je n'ai que deux faces.
 Je possède deux disques et une face courbe.


Mes faces sont quatre triangles.
 J'ai six faces carrées.
 Toutes mes faces sont des rectangles.

4 Complète le tableau.



	A	B	C
Nombre de faces	5	6	6
Nombre d'arêtes	8	12	12
Nombre de sommets	5	8	8

5 PROBLEME
Quels solides composent cette construction ? Indique leur nom et leur nombre.



Il y a 5 cubes et 2 pavés droits.