

CALCUL MENTAL • Énoncer des additions et des soustractions (nombres à 3 chiffres).

..167..

..734..

1.792

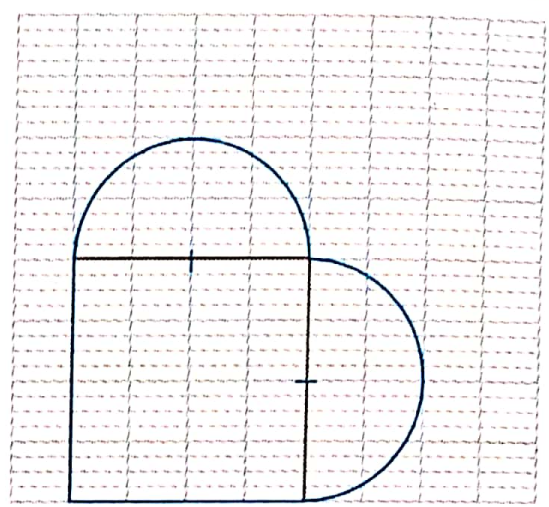
..403..

..345..

1 \*

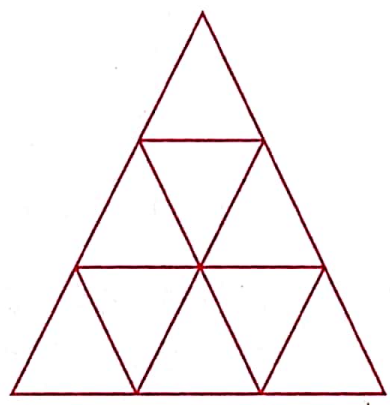
Construis la figure en suivant les indications.

- Trace un carré de 4 carreaux de côté.
- Trouve le milieu de deux côtés qui se suivent.
- Pose la pointe du compas sur l'un de ces deux milieux.
- Trace un demi-cercle extérieur au carré dont un diamètre est un côté du carré.
- Effectue le même tracé à partir de l'autre milieu.
- Repasse au crayon le contour de toute la figure que tu as tracée.



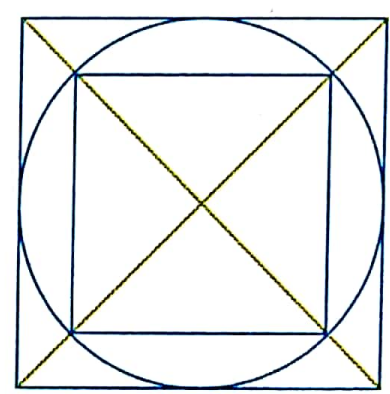
2 \*\*

Combien de triangles y a-t-il dans cette figure ?  
Il y a 13 triangles dans cette figure...




3 \*\*

Trace le plus grand cercle possible dans ce carré, puis un carré le plus grand possible dans le cercle.




4 \*\*\*

Combien de petits cubes faut-il ajouter pour terminer la construction du grand cube ?



Il manque 10 cubes pour terminer la construction du grand cube.



Tous les cubes du 1<sup>er</sup> étage sont posés et 5 cubes sont posés au 2<sup>e</sup> étage.

