

✓ Je sais poser et calculer des additions avec retenue.

	d	u
	3	8
+	2	4
	.	.

A

J'additionne d'abord les unités.

$$8 + 4 = 12$$

12 unités, c'est 1 dizaine et 2 unités.

	d	u
	① 3	8
+	2	4
	.	2

B

J'écris 2 unités au résultat dans la colonne des unités.

J'écris 1 dizaine en retenue dans la colonne des dizaines.

	d	u
	① 3	8
+	2	4
	6	2

C

J'additionne toutes les dizaines.

$$1 + 3 + 2 = 6$$

J'écris 6 dizaines au résultat dans la colonne des dizaines.

J'obtiens le résultat.

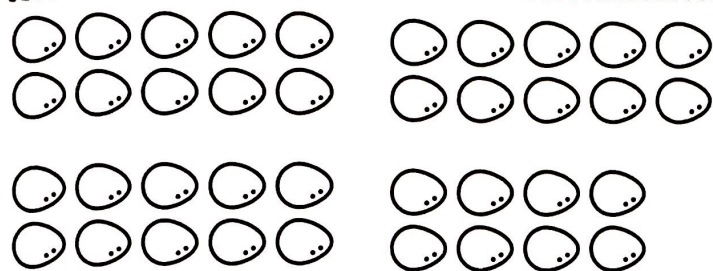

Colorie autant de cases bleues que de cases jaunes puis complète.

Nombre de cases bleues: Nombre de cases jaunes:

Le fermier a ramassé 46 œufs le matin et 38 œufs l'après-midi.

Combien a-t-il ramassé d'œufs au total?

Complète le tableau et calcule. Écris la réponse.



d	u
.	.
.	.
+	
.	.

Écris ta réponse.

Pose et effectue les additions.

2

$25 + 38$

	d	u
	2	5
+	3	8
	6	3

$26 + 46$

	d	u
	.	.
+	.	.
	.	.


$47 + 23$

	d	u
	.	.
+	.	.
	.	.

$53 + 32 + 14$

	d	u
	.	.
+	.	.
	.	.

Écris 6 nombres différents à deux chiffres avec ces cartes.



.....
-------	-------	-------	-------	-------	-------