

Lundi 4 mai

Mathématiques.

1. $28 \times 7 = 196$

Il devra acheter 196 stylos.

2. en 1 heure \rightarrow 4 bonbons

en 3 heures \rightarrow 12 bonbons (4×3)

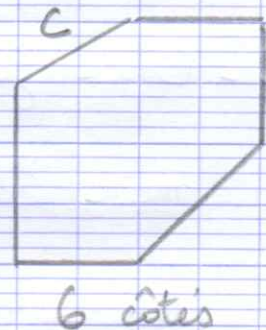
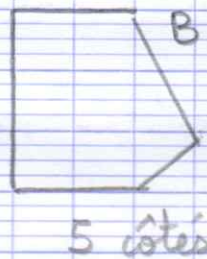
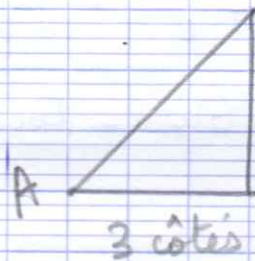
Elle aura mangé 12 bonbons.

3. $35 + 30 + 15 = 80$ minutes soit $60 + 20$

1 heure \leftarrow et 20 min

Elle a passé 1 heure 20 minutes devant son écran.

n° 6 p 165



tes figures auront un autre aspect, respecte le nombre de côté.

n° 7 p 165

