

Prénom :


Date :

GÉOMÉTRIE

GÉOMÉTRIE

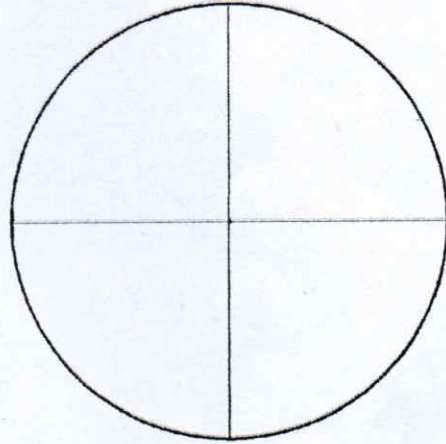
Reproduction de figures (04)

LE MANDALA (02)



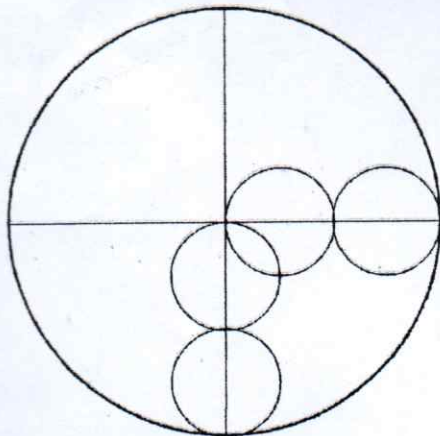
1

- Trace un cercle de 8 centimètres de rayon



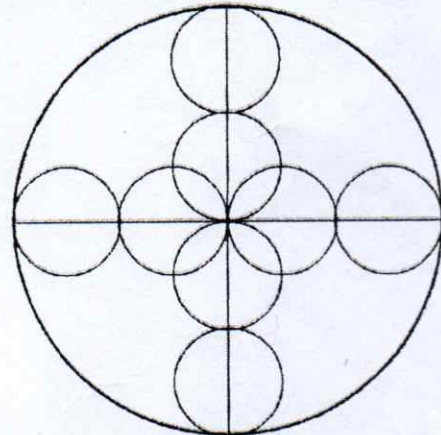
2

- Trace 2 diamètres perpendiculaires de ce cercle



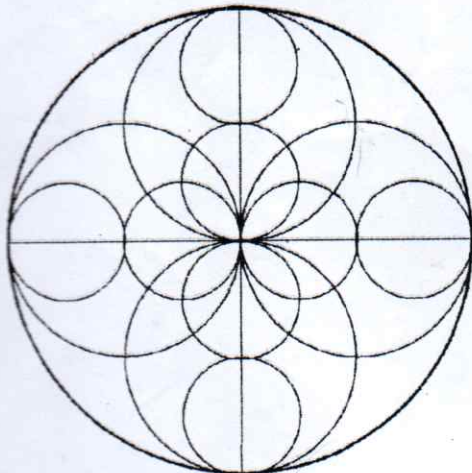
3

- Trace sur chaque diamètre 2 cercles de 2 centimètres de rayon à 2 centimètres des extrémités




4

- Les cercles se touchent au milieu des rayons



5

- Trace 4 nouveaux cercles, de centre les milieux des rayons du cercle initial et de rayon 4 cm



6

- Gomme les segments et arcs de cercle inutiles.